

104年國中教育會考

社會科題本

請不要翻到次頁！

讀完本頁的說明，聽從監試委員的指示才開始作答！

※請先確認你的答案卡、准考證與座位號碼是否一致無誤。

請閱讀以下測驗作答說明：

測驗說明：

這是國中教育會考社會科題本，題本採雙面印刷，共 **13** 頁，有 **63** 題選擇題，每題都只有 一個正確或最佳 的答案。測驗時間從 **08:30** 到 **09:40**，共 **70** 分鐘。作答開始與結束請聽從監試委員的指示。

注意事項：

1. 所有試題均為四選一的選擇題，答錯不倒扣。
2. 試題中所附圖形，如有附上比例尺，以比例尺為依據作答；若無比例尺，則該圖僅作為參考，不代表實際大小。
3. 可利用題本中空白部分計算，切勿在答案卡上計算。
4. 依試場規則規定，答案卡上不得書寫姓名座號，也不得作任何標記。故意汙損答案卡、損壞試題本，或在答案卡上顯示自己身分者，該科考試不予計列等級。

作答方式：

請依照題意從四個選項中選出一個正確或最佳的答案，並用 **2B** 鉛筆在答案卡上相應的位置畫記，請務必將選項塗黑、塗滿。如果需要修改答案，請使用橡皮擦擦拭乾淨，重新塗黑答案。例如答案為 **B**，則將 **Ⓑ** 選項塗黑、塗滿，即：**Ⓐ ● Ⓒ Ⓓ**

以下為錯誤的畫記方式，可能導致電腦無法正確判讀。如：


- Ⓐ Ⓑ Ⓒ Ⓓ — 未將選項塗滿
- Ⓐ Ⓑ Ⓒ Ⓓ — 未將選項塗黑
- Ⓐ ● Ⓒ Ⓓ — 未擦拭乾淨
- Ⓐ ● Ⓒ Ⓓ — 塗出選項外
- Ⓐ ● ● Ⓓ — 同時塗兩個選項

請聽到鈴（鐘）聲響後，於題本右上角方格內填寫准考證末兩碼，再翻頁作答

一、單題：(1~55題)

1. 圖(一)為臺灣1980年、2010年及推估2040年的扶養比示意圖，依據年代先後順序排列應為下列何者？

- (A)甲乙丙
(B)甲丙乙
(C)乙甲丙
(D)乙丙甲



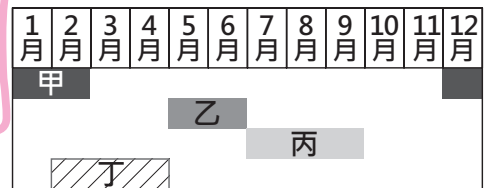
圖(一)

2. 根據聯合國《海洋法公約》規定，各國擁有在其經濟海域內資源的使用權。臺灣因四面環海，島嶼眾多，擁有廣大的經濟海域，但因與鄰近國家的經濟海域重疊，經常有漁業上的糾紛。上文所述的鄰近國家不包含下列何者？

- (A)中國
(B)日本
(C)南韓
(D)菲律賓

3. 圖(二)為颱風、梅雨、寒害、乾早在臺灣西南部主要發生的月分，下列配對何者正確？

- (A)甲為梅雨
(B)乙為颱風
(C)丙為寒害
(D)丁為乾旱



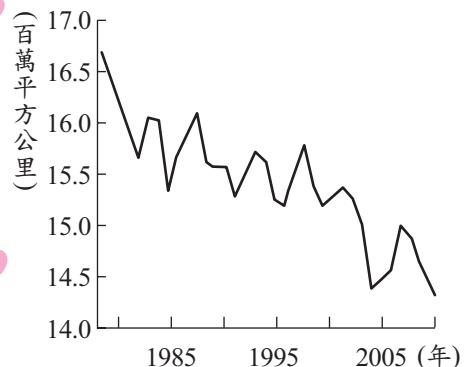
圖(二)

4. 「新加坡的土地面積雖然不大，但因具有某項優越的條件，加上政府政策的指導，成功地讓新加坡的煉油產業快速發展，現已成為世界第三大煉油中心。」文中所述的優越條件應是指下列何者？

- (A)為主要石油生產國
(B)人口多且勞力充足
(C)地理位置佳且海運便利
(D)國內重工業市場需求大

5. 圖(三)顯示歷年2月分北極海冰範圍變化情形，該變化趨勢與下列同時期何者的變化趨勢最為相似？


- (A)全球淡水資源需求
(B)全球海平面的高度
(C)全球熱帶雨林面積
(D)全球二氧化碳濃度



圖(三)

6. 圖(四)為某雜誌上刊載的紀念戳章及其簡介，根據內容判斷，此紀念章最可能是描繪下列何時臺灣的景象？

- (A) 荷蘭統治時期
(B) 清朝統治前期
(C) 清朝統治後期
(D) 日本統治時期

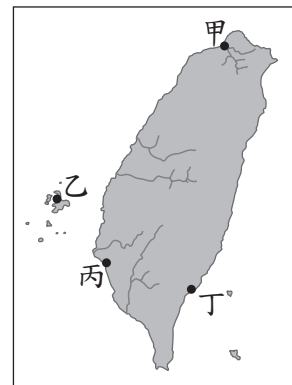


圖(四)

7. 以下是一段十七世紀的文獻記載：「西班牙人每年向該地的已婚原住民課徵二隻雞和三甘當米的稅，原住民感到無法忍受，所以襲擊該地的西班牙城堡，殺了三十個西班牙人。」此段記載最可能是描繪圖(五)中何處的情況？

- (A) 甲
(B) 乙
(C) 丙
(D) 丁

 甘當：一種量米的容器。



圖(五)

8. 十六世紀時，馬丁路德批判羅馬教會，揭開宗教改革的序幕。下列資料中何者最可能是馬丁路德的主張？

(A) 你們從我主耶穌基督的代理人那裡得到了贖罪券，你就能夠完全獲得赦免。

(B) 靈魂獲得赦罪不需仰賴神職人員，只需要《聖經》，而《聖經》的領會只能依靠信仰。

(C) 國王，我們最高的統治者，和他的繼承者，應該被接受且被尊為英格蘭教會唯一至高的首領。

(D) 耶路撒冷現在被基督的敵人占領，為了免除你們的罪惡，而在天國得到不朽的光榮，趕緊前往援助吧！

9. 某書提及：「清廷想收回民間集資興建鐵路的權利，所以針對民間已投資者提出補償：在湖南、湖北，投資金額全數償還；在廣東，僅償還 60%，其餘 40%由政府股票支付；在四川，政府僅發給股票。這種處置引起四川士紳激憤，朝廷為控制騷亂，將部分湖北軍隊調往四川。」上述情況最可能為下列何者的發生提供了機會？

- (A) 自強運動 (B) 戊戌政變
(C) 武昌起義 (D) 義和團事變

10. 圖(六)描繪中國某一朝代的官員正在接待來訪使節的情況，根據圖片內容判斷，此朝代最可能是下列何者？

- (A) 周朝
(B) 漢朝
(C) 唐朝
(D) 清朝



圖(六)

11. 公民老師在課堂上說明關於「價值觀念變遷」的主題，並請四位同學舉出適當的例子加以說明。下列哪一位同學舉出的例子，最符合上述主題？
- (A)阿智：網際網路科技發達
 (B)小強：性別平等意識抬頭
 (C)美美：立法委員席次調整
 (D)小明：大眾捷運系統普及

12. 表(一)是大榮家一年來理財投資結果的分析表。根據表中內容判斷，大榮家所選擇的各項投資工具中，何者的投資報酬率最高？

表(一)

投資工具	投入金額 (萬元)	獲利金額 (萬元)
股票	50	1
債券	100	2
基金	20	1
存款	25	0.5

- (A)股票
 (B)債券
 (C)基金
 (D)存款

13. 發生刑事案件時，偵查人員蒐集、鑑定相關證據，並研判嫌疑人的心態、動機等，以呈現犯罪事實，其目的在提供下列何人作為「判決」的依據？

- (A)法官
 (B)檢察官
 (C)原告律師
 (D)刑事警察

14. 過去大家總認為「法不入家門」，但近年來家庭暴力問題逐漸受到重視，因此政府制定《家庭暴力防治法》，以處理相關問題。下列何者屬於上述法規處理此類問題的作法？

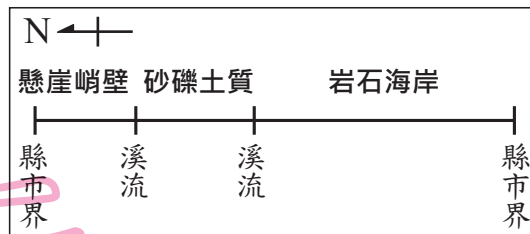
- (A)以感化教育處理少年暴力問題
 (B)禁止兒童及少年出入不良場所
 (C)法院核發保護令保障受害者安全
 (D)由法院宣告剝奪不適任父母親權

15. 右列是小諭舉例說明某一概念的部分內容，根據內容判斷，這應是在探討《憲法》中的哪一項人民基本權利？

- (A)平等權
 (B)自由權
 (C)受益權
 (D)參政權

- 皮皮辦理簽證，利用假期到國外旅遊。
- 毛毛關心政治，經常在報紙上投稿發表對政治議題的看法。

16. 圖(七)為臺灣某一縣市的海岸地形特徵示意圖，根據圖中資訊判斷，最有可能是顯示下列哪一縣市的海岸地形特徵？
- (A) 新北市 (B) 臺南市
(C) 屏東縣 (D) 花蓮縣



圖(七)

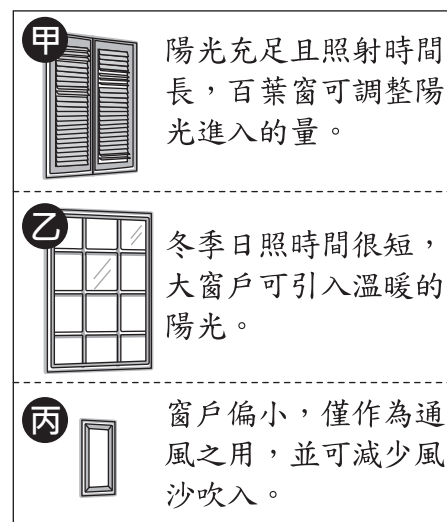
17. 近年來，鳳梨酥成為國人及外國遊客喜愛的伴手禮之一，產值逐年上升。圖(八)為鳳梨酥產銷過程的示意圖，甲、乙、丙、丁哪些屬於第三級產業？



圖(八)

- (A) 甲乙 (B) 甲丙
(C) 乙丁 (D) 丙丁

18. 某位旅行家從北非乾燥地區出發，向北經地中海到達北歐，圖(九)是他記錄途中民宅常見的窗戶形式。在他的旅途中依序記錄的窗戶形式應為下列何者？



圖(九)

19. 圖(十)為中國某一氣候資料的等值線分布圖，圖中甲 < 乙 < 丙 < 丁，則該氣候資料應為下列何者？

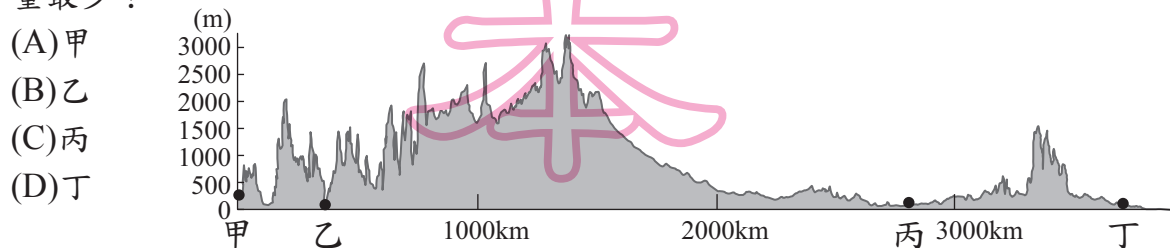


圖(十)

- (A) 年雨量
(B) 年溫差
(C) 七月均溫
(D) 年雨量變率

年雨量變率 = 年降水量變率

20. 圖(十一)是北美洲沿35°N的地形剖面圖。圖中甲、乙、丙、丁何處的年降水量最少？

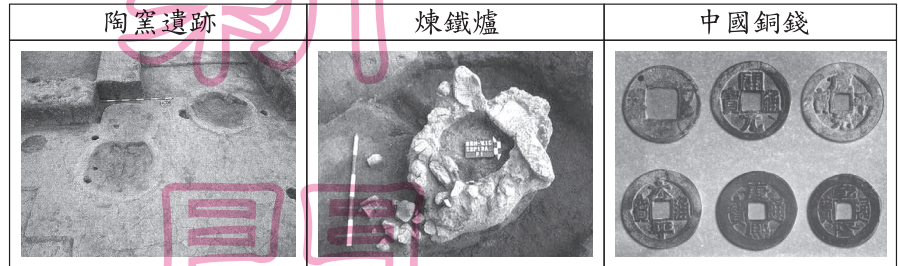


圖(十一)

- (A) 甲
(B) 乙
(C) 丙
(D) 丁

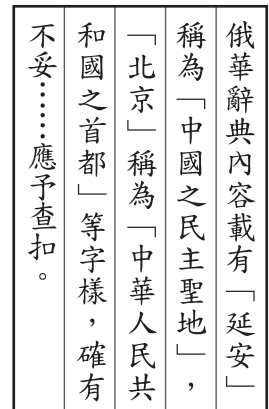
21. 一份歷史文告寫道：「自宋朝覆亡，北方外族入主中原，百年不到，天下大亂。我本是平民，被眾人推舉，率軍攻占金陵(今南京)，再北上驅逐胡虜。色目等雖為異族，但若衷心歸順，仍是中華子民。」以上敘述與下列哪一史事關係最密切？
- (A) 朱元璋起兵反元 (B) 鄭成功反清復明
(C) 孫中山創建中華民國 (D) 洪秀全建立太平天國

22. 圖(十二)為臺灣某一史前文化遺址的圖片，根據其內容判斷，此一文化應為下列何者？



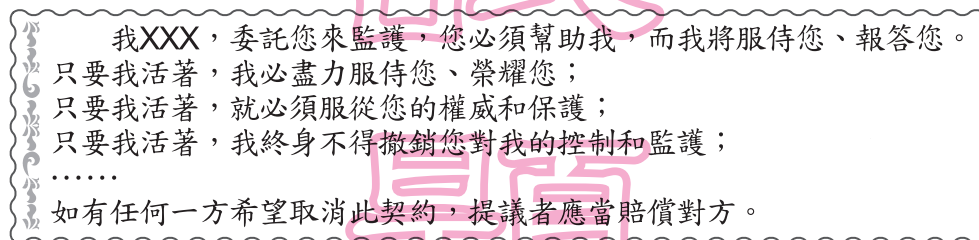
圖(十二)

- (A) 長濱文化
(B) 圓山文化
(C) 大盆坑文化
(D) 十三行文化
23. 圖(十三)呈現某時期中華民國政府對於一本辭典的審查結果，根據圖片內容判斷，此辭典最可能是在下列何時接受政府單位的審查？
- (A) 聯俄容共時期
(B) 寧漢分裂時期
(C) 八年抗戰時期
(D) 臺灣戒嚴時期



圖(十三)

24. 圖(十四)是歷史上某人宣誓的內容，該宣誓和下列何者最有關係？



圖(十四)

- (A) 上古印度的種姓制度 (B) 古典希臘的民主政治
(C) 中古西歐的封建制度 (D) 近代法國的君權神授
25. 右列是某次美國外交聲明的概要，根據內容判斷，美國為何發表此一聲明？
- (A) 闡明門戶開放政策，維護在華利益
(B) 要求中國開港通商，發動鴉片戰爭
(C) 參與瓜分中國領土，確保勢力範圍
(D) 議定《天津條約》內容，保護僑民安全

我國政府希望各國在中國的商業和航運能享受平等待遇，我國人民的利益，也不得因列強在華畫分勢力範圍而受到損害，故反對列強在大清帝國領土內的獨占權利，或對土地的控制權。

26. 據報載，我國某縣的財政狀況長期入不敷出，導致當地政府的財政問題日益嚴重，恐將出現延遲發放基層公務人員薪水的情形。為了解決上述問題，下列何者最可能是該縣政府依法採行的方法？
- (A)調高所得稅的課徵稅率
(B)發展地方特色產業活動
(C)維持市場上的交易秩序
(D)提高社會福利支出比例

27. 某黨主席在一場選舉活動中，為該黨候選人李大同拉票的發言內容如下：「李大同已多次連任，具有豐富的經驗，相信他一定能為大家好好的監督政府，請各位選民繼續給他連任的機會。」李大同所參選的公職人員最可能是下列何者？
- (A)市長
(B)鎮長
(C)監察委員
(D)立法委員

28. 右列是阿平上課報告時所舉的例子，根據其內容判斷，下列何者最可能是該報告的主題？
- (A)政府可透過刑事處罰減少犯罪事件
(B)政府可藉由行政處分處理外部效果
(C)政府可制定民事法規解決民事糾紛
(D)政府可修改相關法規增加國家稅收

- 汽車駕駛人於開車時，使用手持式行動電話進行撥接或通話者，處新臺幣 3,000 元罰款。
- 不良場所業者應拒絕兒童及少年進入，違者將被主管機關處以罰款，並公告負責人姓名。

29. 小英和阿泉一起編製竹筐和斗笠，依比較利益法則進行分工，阿泉被分配去製作竹筐，表(二)是他們每小時所能製作數量的部分數據。根據上述內容判斷，下列敘述何者正確？
- (A)小英在製作斗笠上具有絕對利益
(B)阿泉在製作斗笠上具有絕對利益
(C)小英製作斗笠的機會成本比較高
(D)阿泉製作斗笠的機會成本比較低

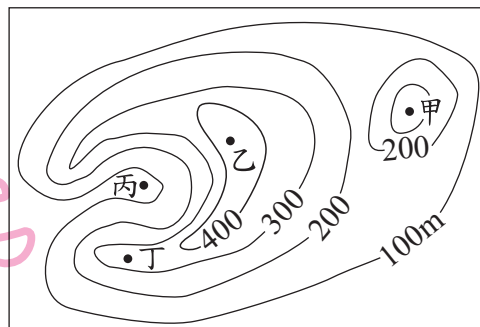
表(二)

	竹筐	斗笠
小英	6	
阿泉	3	

單位：個

30. 新聞節目製作了藝人林小花的專題報導，而小花在看完報導後認為內容有誤，造成她的困擾。律師告訴小花，其實她有權要求該節目給予答辯之機會，且電視臺不得拒絕。下列何者最符合上述內容的意涵？
- (A)公民享有接受媒體採訪與否的自由
(B)媒體工作者有報導社會事件的自由
(C)媒體經營者有選擇報導內容的權利
(D)大眾享有公平接近使用媒體的權利

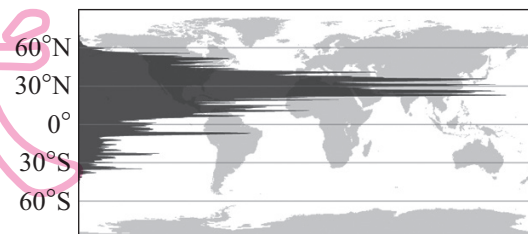
31. 在古代，由於沒有電話和無線電等通訊設備，烽火臺成為傳遞軍情的最好設施之一，傳遞的方法是白天燃煙，夜間舉火。為使軍情能快速傳遞，烽火臺通常設置在視野極佳的位置。圖(十五)中甲、乙、丙、丁哪一地



圖(十五)

- (A)甲 (B)乙
(C)丙 (D)丁
32. 近年來，中國許多內陸的民工不願再到沿海地區工作，反而留在家鄉就業，使沿海地區爆發嚴重的「缺工潮」，沿海工廠只好不斷放寬條件限制，或以其他誘因來吸引員工。下列何者最可能是造成上述缺工潮的原因？
(A)沿海地區的工廠外移 (B)內陸地區的物價高漲
(C)沿海地區薪資所得降低 (D)內陸地區就業機會增加
33. 希臘的海岸線曲折、多海灣，這是因陸地丘陵延伸至海岸，受海面相對上升的影響，沿海谷地被海水淹沒，使得各處都有深入內陸的海灣。依上文所描述的海岸特性，下列何處的海岸類型與希臘最為相似？
(A)臺灣東部海岸 (B)埃及尼羅河口
(C)中國華南沿海 (D)大洋洲吐瓦魯海岸

34. 圖(十六)呈現2000年某一地理現象在不同緯度的分布差異。已知縱坐標為緯度，橫坐標代表該現象的數據。根據該現象在不同緯度的數據大小判斷，此一地理現象最可能是指下列何者？



圖(十六)

- (A)人口數 (B)年降水量
(C)森林面積 (D)人均GDP
35. 德國由於生育率低，人口結構老化，總人口數多年呈現負成長。2011年，該國總人口數較前一年成長0.1%，是近年來首度正成長。表(三)是該國2010年和2011年的部分人口資料，根據表中資料推論，下列何者最可能是德國該年總人口數增加的主要原因？

表(三)

年度	2010年	2011年
人口資料		
總人口數	8170.8	8180.0
新生兒人口數	67.8	66.3
死亡人口數	85.8	85.2

單位：萬人

- (A)政府鼓勵生育的政策奏效
(B)大幅開放東歐國家的移民
(C)老人慢性病獲得明顯控制
(D)給予多國觀光免簽證待遇

36. 圖(十七)中甲、乙、丙三張照片，分別與某戰爭中的三個重要事件有關，若依這些事件發生的時間先後順序排列，下列何者正確？

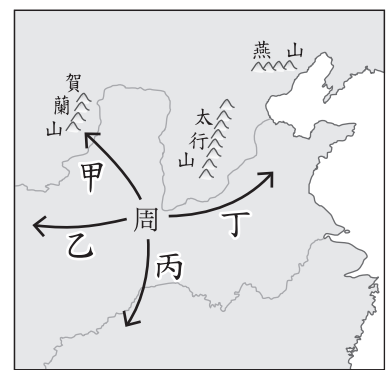


圖(十七)

- (A)乙甲丙
(B)乙丙甲
(C)丙甲乙
(D)丙乙甲

37. 歷史學者曾指出：「西周的封建，乃是一種侵略性的武裝移民與軍事占領。」上述朝代的封建擴張，主要是向圖(十八)中哪一方向？

- (A)甲
(B)乙
(C)丙
(D)丁



圖(十八)

38. 表(四)是歷史上某人在臺灣旅遊的部分行程，依內容判斷，此人最可能是下列何者？

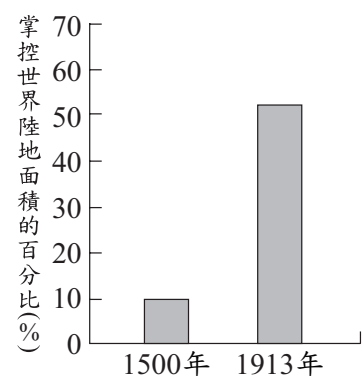
- (A)日本統治下訪臺的國會議員
(B)清代開港時來臺的外國商人
(C)跟隨鄭成功來臺的明朝文人
(D)荷蘭聯合東印度公司的駐臺牧師

表(四)

時間	地點	參觀行程
2/22-2/23	臺南	孔廟、赤崁樓、嘉南大圳
2/23-2/24	高雄	西子灣海水浴場、臺糖製糖廠
2/24	屏東	鵝鑾鼻燈塔
2/27	臺北	紅毛城、英國領事館

39. 圖(十九)呈現在1500年與1913年，某一洲的國家因政治、軍事、經濟力量的轉變，所掌控的世界陸地面積比例的變化。此一洲最可能是下列何者？

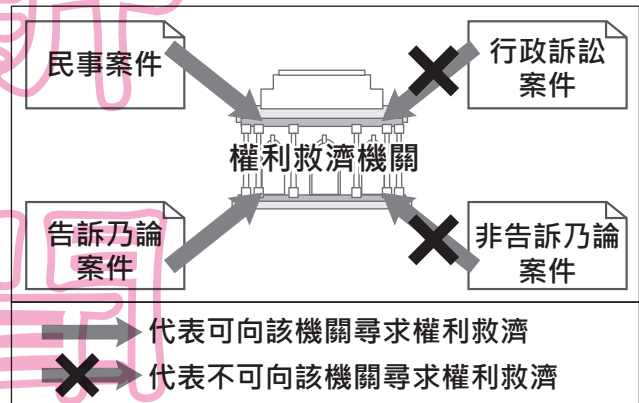
- (A)非洲
(B)美洲
(C)亞洲
(D)歐洲



圖(十九)

40. 某國因強烈颶風侵襲，導致各地發生嚴重災情、民眾傷亡無數。若這樣的情況發生在我國，而政府認為應發布緊急命令加以因應，下列何者是其生效的必要條件之一？
- (A)經行政院發布 (B)經立法院追認
(C)經憲法法庭審理 (D)經公民投票複決

41. 圖(二十)是上公民課時使用的教具，根據圖中的相對關係判斷，該「權利救濟機關」應為下列何者？



- (A)地方法院
(B)行政法院
(C)調解委員會
(D)上級主管機關

圖(二十)

42. 飯店業者常運用需求法則，針對不同時段的來客數量設定不同的價格，希望盡可能提高住房率。表(五)為某飯店原本房價及優惠後房價，根據表中資料判斷，若不考慮其他條件，下列何者最可能是該飯店推出優惠方案之前的住房情況？

表(五)

時段	原本房價(元)	優惠後房價(元)
甲	4000	2800
乙	4000	2000
丙	4000	3600

(A)

時段	住房率
甲	40%
乙	90%
丙	70%

(B)

時段	住房率
甲	70%
乙	40%
丙	90%

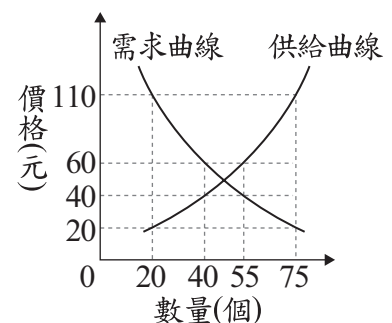
(C)

時段	住房率
甲	70%
乙	90%
丙	40%

(D)

時段	住房率
甲	90%
乙	40%
丙	70%

43. 圖(二十一)是依某店家招牌商品的市場供需狀況所繪製的圖形，根據圖中訊息判斷，此項招牌商品在下列四種定價時，何者為店家帶來的銷貨收入最高？



- (A) 20
(B) 40
(C) 60
(D) 110

圖(二十一)

44. 基於家庭倫理及優生學的考量，我國《民法》規定具有近親關係的血親及姻親間不得結婚。根據上述內容判斷，下列何種組合若登記結婚，其婚姻最可能是有效的？

- (A)愛美與哥哥的養子 (B)曉華與伯父的兒子
(C)大明與大嫂的妹妹 (D)英俊與姑姑的女兒

45. 從十六世紀哥白尼的「地球繞日說」，到十七世紀伽利略主張「太陽中心說」、牛頓發表「萬有引力定律」，這些學說的提出，在歷史上最可能具有下列何種意義？
- (A)嘗試改變生產方式，使用機器取代人力
 (B)宣揚社會福利概念，解決貧富差距問題
 (C)試圖用理性態度，了解宇宙的自然法則
 (D)強調個性解放，重視人類的情感與直覺

46. 新聞報導：「少子化問題日益嚴重，我國的自然增加率恐將成為負值，政府已把此問題視為危及國家安全的國安議題，交由各部會擬定妥善的因應政策。」上述內容最可能是在關切下列哪一項國家組成要素的變化？
- (A)主權 (B)人民
 (C)政府 (D)領土

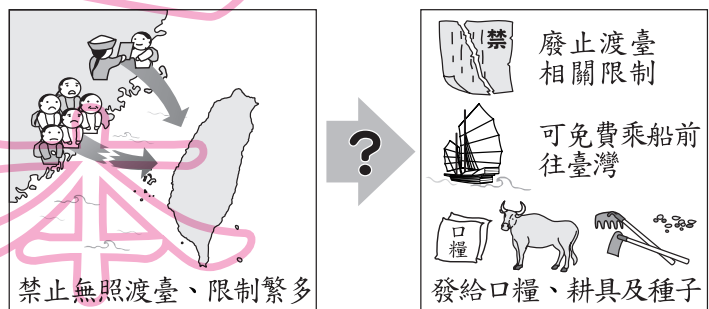
47. 公民老師為介紹歷史上某一重要事件所使用的簡圖，如圖(二十二)，其中甲、乙最可能為下列何者？



圖(二十二)

- (A)甲：政府持續大量發行貨幣，乙：人民生活水準上升
 (B)甲：政府持續大量發行貨幣，乙：人民生活水準下降
 (C)甲：政府減少貨幣流通數量，乙：人民生活水準上升
 (D)甲：政府減少貨幣流通數量，乙：人民生活水準下降
48. 18歲的小蔡買了新房子，並完成相關手續，父母知情後雖不同意，但買賣契約仍然有效；19歲的雯雯買了昂貴的名牌包，但因某些原因，此交易行為無效。根據上述內容判斷，文中二人的情形最不可能下列何者？
- (A)雯雯遭受了監護宣告
 (B)小蔡的婚姻狀況為已婚
 (C)雯雯屬於限制行為能力人
 (D)小蔡屬於限制行為能力人

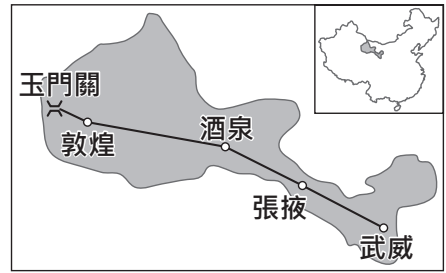
49. 圖(二十三)呈現某一歷史事件前後，清朝治臺措施的差異。從圖中內容判斷，此一事件應是下列何者？



圖(二十三)

- (A)甲午戰爭
 (B)中法戰爭
 (C)林爽文事件
 (D)牡丹社事件

50. 中國某電視臺舉辦旅遊路線設計比賽，其中有一路線的行程安排如圖(二十四)所示。若要寫出呈現該路線特色的介紹詞句，下列何者最合適？



圖(二十四)

- (A) 走近黃河源頭，探訪生命禁區
 (B) 重走絲綢之路，再現大漠風光
 (C) 豪情塞上威風鼓，黃土高原信天游
 (D) 甘甜瓜果齒留香，維族姑娘裙飛揚

維族：此處指維吾爾族。

51. 2013年，巴西幣貶值，幣值創四年來低點，連帶影響該國的進出口貿易。若其他條件不變的情況下，此幣值波動對巴西咖啡產業造成的影響，下列何者正確？

- (A) 巴西為出口國，此種波動有利咖啡出口
 (B) 巴西為出口國，此種波動不利咖啡出口
 (C) 巴西為進口國，此種波動有利咖啡進口
 (D) 巴西為進口國，此種波動不利咖啡進口

52. 圖(二十五)是某旅遊手冊的部分內容，此手冊最可能是介紹圖(二十六)中的何地？



這座典型的德式古堡建築，是德國統治此地時所興築的總督官邸。第一次世界大戰時，日本進兵此地，而後取代了德國在此的統治權，這座建築也成為日本守備軍司令的官邸……。



圖(二十五)

圖(二十六)

53. 假設身為監察委員的大佑，在某段期間看到媒體揭露的四則新聞報導，如表(六)所示。根據大佑的職權判斷，表中哪一則新聞的報導對象，最可能被他提出彈劾？

表(六)

新聞	報導內容
甲	民調顯示，民眾對於內閣官員的滿意度大幅下滑。
乙	幫派分子製毒，警方破獲史上最大毒品販賣集團。
丙	現任總統疑似洩漏國家機密，影響國家安全。
丁	中央政府部會首長涉嫌官商勾結，從中舞弊。

- (A) 甲
 (B) 乙
 (C) 丙
 (D) 丁

54. 崇明島是位於中國第一大河出海口的島嶼，大部分隸屬於上海市。在某一段時期，由於居民在島嶼周邊圍河造田，加上該大河流域內其他地區的人為活動，使得島嶼面積逐漸增加。下列哪項人為活動與上文描述的島嶼面積變化關連最密切？
- (A)興築長江三峽大壩
(B)砍伐長江流域的森林
(C)在河套地區引水灌溉
(D)在黃河下游修築堤防
55. 秧秧至某城市旅遊，發現此城市曾歷經亞歷山大帝國、羅馬帝國、阿拉伯帝國、鄂圖曼土耳其帝國的統治。秧秧最可能至下列哪一城市旅遊？
- (A)埃及 開羅
(B)希臘 雅典
(C)義大利 羅馬
(D)沙烏地阿拉伯 麥加

二、題組：(56~63題)

閱讀下列選文，回答第56至58題：

臺灣有一位熟知各類蚊子及其傳播疾病的專家，人稱「蚊子博士」。他15歲時便開始參與登革熱疫情的訪查，雖然因此染病，卻不減他對蚊蟲研究的熱情。國民政府接收臺灣初期，因政經情勢的變化，加上語言隔閡、文化差異，使得社會動盪不安，他只好暫停學業與研究工作。幾年後，他才又繼續投入瘧疾的防治工作，並協助臺灣成為世界第一個根除瘧疾的國家。1980年，他被外交部派到遙遠的南美玻利維亞，這個內陸國家幾乎是位在從臺灣直線通過地球心到達的另一側地表。他努力研究在當地山區蒐集到的蚊子，希望這個開發中國家也能免除瘧疾之害。

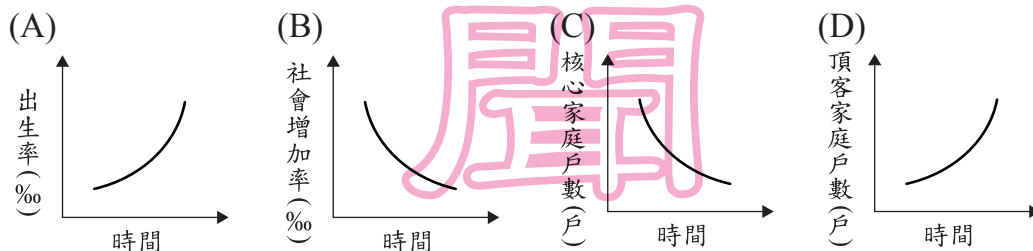
56. 上文所述社會動盪不安的年代，主要是指下列何者？
- (A)1910年代 (B)1930年代
(C)1940年代 (D)1960年代
57. 下列哪一組經緯度坐標，最接近上述內陸國家所在位置？
- (A) (60°W, 23.5°N)
(B) (60°W, 23.5°S)
(C) (120°W, 23.5°N)
(D) (120°W, 23.5°S)
58. 上述內陸國家境內的山區，應屬於下列哪一座山脈？
- (A)落磯山脈
(B)安地斯山脈
(C)阿帕拉契山脈
(D)喀爾巴阡山脈

 落磯山脈 = 洛磯山脈

閱讀下列選文，回答第 59 至 60 題：

隨著現代人生活愈來愈富足，養寵物已成為一種風潮，再加上單身貴族及不生育子女的雙薪家庭戶數增加，這些需要陪伴的族群常會飼養寵物作伴，使得臺灣寵物的數量，漸漸地比0~6歲的嬰幼兒人數還多，也帶動了寵物市場龐大的商機。但養寵物除了經濟上的支出外，還要注意相關的法律問題，像是許多人不知道寵物用剩的藥品不可任意上網販售，否則會被主管機關處以高額罰款。飼養寵物的主人，除了花時間照顧寵物外，可能也要多費心思了解相關規定，以免觸法。

59. 根據上述內容判斷，下列哪種社會變遷的趨勢最可能符合文中敘述？



60. 文中所提及違法行為應受到的處罰，與下列何者所應負起的法律責任類型相同？

- (A) 未依契約規定完成施工 (B) 拒絕酒測遭到吊銷駕照
(C) 未盡兵役義務遭到起訴 (D) 酒後駕車造成公共危險

閱讀下列選文，回答第 61 至 63 題：

1960年代是一個社會內部衝突與對抗的年代。在此期間，美國種族衝突日益激烈，為了對抗種族隔離措施，黑人民權運動在各地展開，促使國會通過法案，確保少數族裔獲得在法律及政治上的平等地位；中國則因領導階層的權力爭奪，鼓動青年學生，在「革命無罪、造反有理」的口號下，展開一連串的破壞行動；捷克領導人提倡改革，放寬經濟與政治的管制，受到廣大民眾的支持，但「老大哥」嚴厲禁止其改革，領導華沙公約組織出兵捷克，加以鎮壓。

61. 上文中美國國會通過的「法案」，最可能呈現下列哪一概念？

- (A) 地方自治的展現 (B) 民意機關的建立
(C) 基本人權的保障 (D) 分權制衡的設計

62. 根據上文對中國的描述，當時中國最可能出現下列哪一景象？

- (A) 政府鼓勵民眾交出鐵製品，供國家煉鋼
(B) 派遣軍隊前往朝鮮半島，援助北韓作戰
(C) 國家推動改革開放，在深圳設經濟特區
(D) 紅衛兵四處鬥爭，毀損歷史文物和書籍

63. 上文所述的「老大哥」，最可能是下列何者？

- (A) 蘇聯 (B) 美國
(C) 中國 (D) 英國